




TRƯỜNG TIỂU HỌC NGUYỄN THỊ BẢY




TOÁN LỚP 3



Bài 66. Xem đồng hồ. Tháng- năm (tiết 1)



Thứ ai ngày 07 tháng 04 năm 2025
Cán



Thứ hai ngày 07 tháng 04 năm 2025

Toán



Bài 66. Xem đồng hồ. Chàng - năm (tiết 1)




3 giờ 5 phút



5 giờ 43 phút

Một giờ có 60 phút.
Mỗi phần được đánh dấu đỏ
tương ứng với 1 phút. Trên
mặt đồng hồ có 60 phần.



Thứ hai ngày 07 tháng 04 năm 2025

Toán



Bài 66. Xem đồng hồ. Chàng - năm (tiết 1)



1.Số.

a)



Nam học Toán
lúc **7** giờ **25** phút sáng.

b)



Mai học Âm nhạc
lúc **10** giờ **10** phút sáng.

c)



Rô-bốt học Mĩ thuật
lúc **2** giờ **33** phút chiều.

d)



Việt học Giáo dục thể chất
lúc **3** giờ **42** phút chiều.



Thứ hai ngày 07 tháng 04 năm 2025

Toán



Bài 66. Xem đồng hồ. Chàng - năm (tiết 1)

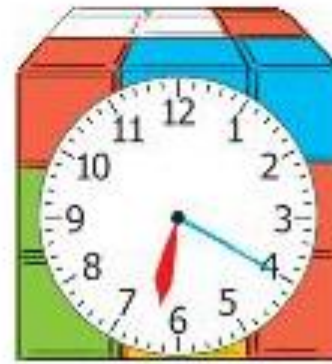
2. Hai đồng hồ nào chỉ cùng thời gian vào buổi chiều?



A



B



C



D



E



G



H



K



Thứ hai ngày 07 tháng 04 năm 2025
Toán



Bài 66. Xem đồng hồ. Chàng - năm (tiết 1)

3. Chọn đồng hồ thích hợp với mỗi bức tranh:

a)



Mai cùng mẹ làm bánh lúc:



A.



B.

b)



Mi cùng bố hút bụi lúc:



A.



B.



Thứ hai ngày 07 tháng 04 năm 2025

Toán



Bài 66. Xem đồng hồ. Chàng - năm (tiết 1)



4. Số?

Mẫu: 1 giờ + 2 giờ = 3 giờ

30 phút – 10 phút = 20 phút

10 phút x 3 = 30 phút

8 giờ : 4 = 2 giờ

a. 10 phút + 25 phút = **35** phút

b. 24 giờ - 8 giờ = **16** giờ

c. 24 giờ x 2 = **48** giờ

d. 60 phút : 6 = **10** phút





CHÀO CÁC EM!

ALWAYS ON MY MIND



Thứ ba ngày 08 tháng 04 năm 2025
Lúcán



Thứ ba ngày 08 tháng 04 năm 2025

Loán



Bài 66. Xem đồng hồ. Chàng - năm (tiết 2)

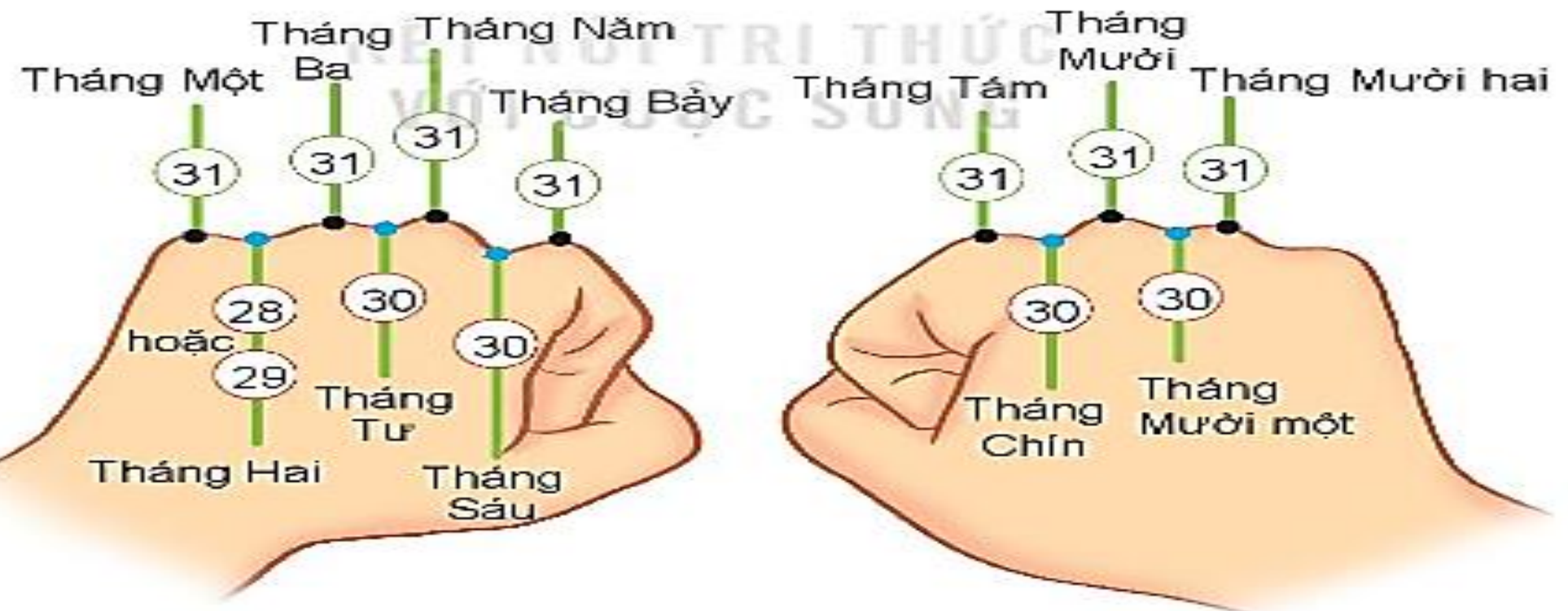

* Một năm có 12 tháng là:

Tháng Một, tháng Hai, tháng Ba, tháng Tư, tháng Năm, tháng Sáu, tháng Bảy, tháng Tám, tháng Chín, tháng Mười, tháng Mười một, tháng Mười hai.



Hôm qua là sinh nhật của em. Thế bao giờ em làm sinh nhật tiếp ạ?

Một năm có 12 tháng. Em chờ 12 tháng nữa nhé!



* Số ngày trong từng tháng là:



Thứ ba ngày 08 tháng 04 năm 2025

Toán

Bài 66. Xem đồng hồ. Tháng - năm (tiết 2)



**** Quan sát tờ lịch năm nay và cho biết:**

a. Những tháng nào có 30 ngày.

*** Những tháng có 30 ngày là: tháng Tư, tháng Sáu, tháng Chín, tháng Mười một.**

b. Những tháng nào có 31 ngày.

*** Những tháng có 31 ngày là: Tháng Một, tháng Ba, tháng Năm, tháng Bảy, tháng Tám, tháng Mười, tháng Mười hai.**

c. Tháng 2 năm nay có bao nhiêu ngày.

*** Tháng 2 năm nay có 28 ngày.**



Thứ ba ngày 08 tháng 04 năm 2025

Toán



Bài 66. Xem đồng hồ. Tháng - năm (tiết 2)

1. Xem tờ lịch tháng 3 rồi trả lời các câu hỏi.



a. Trường của Rô-bốt sẽ đi cắm trại vào Chủ nhật cuối cùng của tháng 3. Hỏi đó là ngày nào?

* Đó là ngày 31.

b. Ngày cuối cùng của tháng 3 là thứ mấy? Ngày đầu tiên của tháng 4 cùng năm là thứ mấy?

* Ngày cuối của tháng 3 là Chủ nhật.

* Ngày đầu tiên của tháng 4 cùng năm là thứ hai.

Thứ ba ngày 08 tháng 04 năm 2025

Coán



Bài 66. Xem đồng hồ. Chàng - năm (tiết 2)

2. Chọn câu trả lời đúng.

Rô-bốt có một chuyến đi đến Tây Nguyên từ ngày 29 tháng 3 đến hết ngày 2 tháng 4. Vậy chuyến đi đó kéo dài bao nhiêu ngày?

A. 3 ngày

B. 4 ngày

C. 5 ngày

D. 6 ngày





CHÀO CÁC EM!

ALWAYS ON MY MIND

